

# CÁLCULO I

## 2.2. FUNCIONES DE VARIAS VARIABLES

# INTRODUCCIÓN

En este tema estudiaremos las funciones de varias variables, en el caso particular de dos variables, es decir, funciones

$$F: \mathbb{R}^2 \rightarrow \mathbb{R}.$$

## EJEMPLOS

*Funciones de dos variables son el paraboloides*

$$F(x, y) = x^2 + y^2,$$

*ó el hiperboloides reglado*

$$F(x, y) = xy + 1.$$

# REPRESENTACIÓN GRÁFICA

Podemos representar una función de dos variables como una superficie en el espacio. Para ello, tomamos muchos puntos  $(x, y)$  y para cada uno de ellos representamos en  $\mathbb{R}^3$  el punto  $(x, y, f(x, y))$ . Después, unimos los puntos tales que sus coordenadas  $(x, y)$  son próximas para dibujar una superficie.

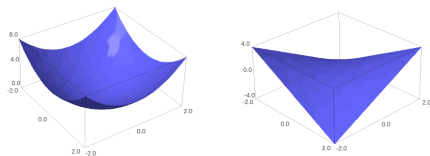


FIGURA: Paraboloides e hiperboloides

# REPRESENTACIÓN GRÁFICA

Otra forma de representar una función de dos dimensiones es mediante sus curvas de nivel. Para ello vamos eligiendo valores  $z \in \mathbb{R}$  y para cada uno de ellos, dibujamos la curva plana  $f(x, y) = z$ .

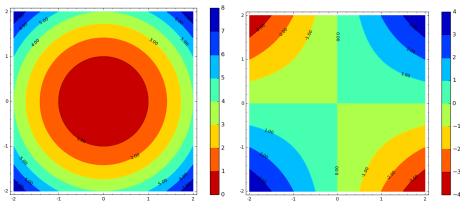


FIGURA: Paraboloides e hiperboloides

# DERIVADAS PARCIALES

Consideremos una función de dos variables,  $f(x, y)$ . Se definen las derivadas parciales de  $f$  en un punto  $(x, y)$  como

$$\frac{\partial f}{\partial x}(x, y) = \lim_{h \rightarrow 0} \frac{f(x + h, y) - f(x, y)}{h},$$

$$\frac{\partial f}{\partial y}(x, y) = \lim_{h \rightarrow 0} \frac{f(x, y + h) - f(x, y)}{h}.$$

La derivada parcial de  $f$  respecto de  $x$  en un punto  $(x_0, y_0)$  es la derivada de la función de una variable  $f(x, y_0)$  en el punto  $x_0$ . Análogamente en  $y$ .

# DERIVADAS PARCIALES

## EJEMPLOS

*Calcular las derivadas parciales en  $(0,0)$  y en  $(1,1)$  de las siguientes funciones:*

❶  $f(x, y) = x + 1.$

❷  $f(x, y) = x^2 + y^2.$

❸  $f(x, y) = (x + y)^2.$

❹  $f(x, y) = xe^{x^2+xy}.$

# GRADIENTE

Dada una función  $f(x, y)$  y un punto  $(x_0, y_0)$ , el gradiente de  $f$  en el punto  $(x_0, y_0)$  es

$$\nabla f(x_0, y_0) = \left( \frac{\partial f}{\partial x}(x_0, y_0), \frac{\partial f}{\partial y}(x_0, y_0) \right)$$

## EJEMPLOS

*Calcular el gradiente en el origen de las siguientes funciones*

- 1  $f(x, y) = x + 1.$
- 2  $f(x, y) = xy + y + 2x.$
- 3  $f(x, y) = x^2 + y^2.$
- 4  $f(x, y) = e^{x+y}.$

# GRADIENTE

El gradiente se representa mediante un vector (flecha), con origen el punto  $(x_0, y_0)$  y extremo  $(x_0, y_0) + \nabla f(x_0, y_0)$  (usualmente, multiplicando el gradiente por un factor para que el dibujo sea más claro).

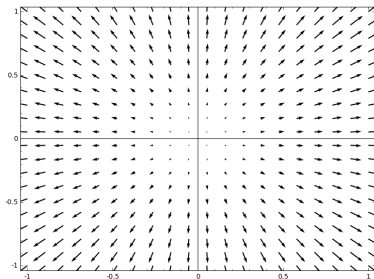


FIGURA: Gradiente de  $x^2 + y^2$



# GRADIENTE

El gradiente determina la dirección de máximo crecimiento de la función. Las curvas de nivel indican las direcciones donde la función no cambian. Las curvas de nivel y el gradiente son perpendiculares.

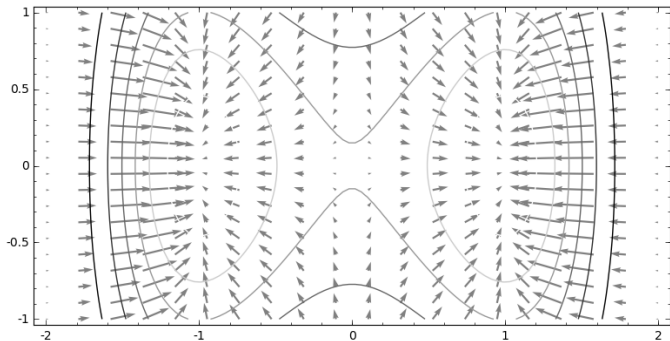


FIGURA: Gradiente y curvas de nivel  $(e^{-\frac{(x^2-1)^2+y^2}{2}})$

# GRADIENTE

En los extremos de una función de varias variables el gradiente se anula (aunque puede anularse en otros puntos).

## EJEMPLO

*Estudiar dónde se anula el gradiente de  $f(x, y) = (x^2 - 1)^2 + y^2$ .*